



# Bridge Test 5 voor beginners











Auteur: Thijs Op het Roodt  
© Bridge Office 2024








Klik in het vierkantje om het juiste antwoord aan te kruisen.  
Door nogmaals op het vakje te klikken, zet u het kruisje uit.








Veel plezier.  
De antwoorden kunt u vinden op mijn website.

1	<p>Mijn linker buurman opent met 1♥.</p> <p>Mijn partner past,</p> <p>Mijn rechter buurman biedt 3♥.</p> <p>Ik heb 10 punten.</p> <p>Hoeveel punten heeft mijn partner maximaal?</p>	<input type="checkbox"/> 7 <input type="checkbox"/> 8 <input type="checkbox"/> 9
---	--	--

2	<p>Ik open met 1♠.</p> <p>Mijn rechter buur past.</p> <p>Mijn partner biedt 4♠.</p> <p>Hoeveel ♠ heeft mijn partner minimaal?</p>	<input type="checkbox"/> 3 <input type="checkbox"/> 4 <input type="checkbox"/> 5
---	---	--

3	<table border="1" style="width: 100%; text-align: center;"> <tr> <td style="width: 25%;"></td> <td style="width: 25%;"><b>HB54</b></td> <td style="width: 25%;"></td> <td style="width: 25%;"><b>A632</b></td> </tr> </table> <p>U speelt 3 Sans Atout en west aan slag. Welke  speelt u als eerste?</p>		<b>HB54</b>		<b>A632</b>	<input type="checkbox"/>  4 <input type="checkbox"/>  Boer <input type="checkbox"/>  Heer
	<b>HB54</b>		<b>A632</b>			

4	<table border="1" style="width: 100%; text-align: center;"> <tr> <td style="width: 25%;"></td> <td style="width: 25%;"><b>AVB</b></td> <td style="width: 25%;"></td> <td style="width: 25%;"><b>H10942</b></td> </tr> </table> <p>U speelt 3 Sans Atout en west aan slag. Hoeveel slagen maakt u met deze .</p>		<b>AVB</b>		<b>H10942</b>	<input type="checkbox"/> 3 <input type="checkbox"/> 4 <input type="checkbox"/> 5
	<b>AVB</b>		<b>H10942</b>			

5	<table border="1" style="width: 100%; text-align: center;"> <tr> <td style="width: 25%;"></td> <td style="width: 25%;"><b>V942</b></td> </tr> </table> <p>Voor dat de bieding eindigt in 3 Sans Atout voor uw tegenstanders heeft uw partner  geboden. Met welke kaart komt u uit?</p>		<b>V942</b>	<input type="checkbox"/>  2 <input type="checkbox"/>  9 <input type="checkbox"/>  Vrouw
	<b>V942</b>			











6	<p>De tegenpartij heeft 3 Sans Atout geboden.</p> <p>Mijn partner start met ♠ vrouw en in de dummy komen 11 punten te liggen. Ik heb 8 punten. Hoeveel punten heeft mijn partner maximaal?</p>	<input type="checkbox"/> 6 <input type="checkbox"/> 7 <input type="checkbox"/> 8
---	--	--


7	<p>Ik open met 1 Sans Atout. Links wordt gepast.</p> <p>Mijn partner biedt 2 ♥ en rechts wordt gepast.</p> <p>Ik heb 17 punten en een 4-kaart ♠. Wat ga ik bieden?</p>	<input type="checkbox"/> 2 ♠ <input type="checkbox"/> 3 ♠ <input type="checkbox"/> 4 ♠
---	--	--


8	<table border="1" style="margin-bottom: 10px;"> <tr> <td style="text-align: center;">♠</td> <td style="text-align: center;">543</td> </tr> <tr> <td style="text-align: center;">♥</td> <td style="text-align: center;">A10982</td> </tr> <tr> <td style="text-align: center;">♦</td> <td style="text-align: center;">75</td> </tr> <tr> <td style="text-align: center;">♣</td> <td style="text-align: center;">842</td> </tr> </table> <p>U mag starten tegen 3 Sans Atout. Waar start u mee?</p>	♠	543	♥	A10982	♦	75	♣	842	<input type="checkbox"/> ♦ 7 <input type="checkbox"/> ♥ 10 <input type="checkbox"/> ♥ 8
♠	543									
♥	A10982									
♦	75									
♣	842									
















9	<p>Mijn partner opent met 1 ♦.</p> <p>Mijn rechter buurman legt een doublet. Mag ik daar op passen?</p>	<input type="checkbox"/> Nooit <input type="checkbox"/> Ja <input type="checkbox"/> Nee
---	---	---






10	<p>De tegenpartij opent met 1 ♦.</p> <p>Ik pas. Mijn linker buurman biedt 1 ♠.</p> <p>Mijn partner volgt 2 ♥.</p> <p>Ik heb 9 punten. Hoeveel punten heeft mijn partner maximaal?</p>	<input type="checkbox"/> 11 <input type="checkbox"/> 12 <input type="checkbox"/> 13
----	---	---






11	<table border="1"> <tr> <td></td> <td>AV53</td> <td></td> <td>B742</td> </tr> </table>		AV53		B742	<input type="checkbox"/>  2 <input type="checkbox"/>  4 <input type="checkbox"/>  Boer
		AV53		B742		
<p>U speelt 3 Sans Atout en bent in oost aan slag. Welke  speelt u?</p>						




12	<p>Met 7-kaart  wil ik preëmtief openen. Wij zijn niet kwetsbaar. Maar hoeveel slagen beloof ik mijn partner dan?</p>	<input type="checkbox"/> 6 <input type="checkbox"/> 7 <input type="checkbox"/> 8
----	--	--






13	<p>Mijn partner opent 1  .          Rechts van mij wordt 2  geboden.          Ik heb 7 punten en 4-kaart  en een 4-kaart  . Wat ga ik doen?</p>	<input type="checkbox"/> Passen <input type="checkbox"/> 2  <input type="checkbox"/> 2 
----	---	---


14	<table border="1"> <tr> <td></td> <td>A3</td> </tr> <tr> <td></td> <td>10873</td> </tr> <tr> <td></td> <td>B32</td> </tr> <tr> <td></td> <td>8542</td> </tr> </table>		A3		10873		B32		8542	<input type="checkbox"/>  Aas <input type="checkbox"/>  2
		A3								
	10873									
	B32									
	8542									
<p>Tegen 3 Sans Atout start mijn partner met  heer. Wat ga ik bijspelen?</p>										







15	<p>Ik open met 1  .          Mijn partner biedt 1 Sans Atout. Dit wordt uitgepast.          In welke kleur heeft mijn partner minimaal een 4-kaart?</p>	<input type="checkbox"/>  <input type="checkbox"/>  <input type="checkbox"/>  <input type="checkbox"/> 
----	--	--


16	 HVB	<input type="checkbox"/> Ik leg Doublet <input type="checkbox"/> 1  <input type="checkbox"/> 1 Sans Atout
	 A83	
	 AB97	
	 B32	
Mijn rechter buurman opent met 1. Wat ga ik doen met deze 16 punter?		

17	Mijn partner opent 2  .	<input type="checkbox"/> Ja <input type="checkbox"/> Nee
	Ik bied 2  .	
	Mijn partner 2  .	
	Mag ik passen?	

18	 843	<input type="checkbox"/> 4 <input type="checkbox"/> 5 <input type="checkbox"/> 6
	 AH	
	 VB10942	
	 54	
U speelt  .		
Hoeveel slagen gaat u minimaal halen met deze hand?		

19	Wij hebben 4  geboden en plus 1 gemaakt en zijn kwetsbaar.	<input type="checkbox"/> 600 <input type="checkbox"/> 620 <input type="checkbox"/> 650
	Hoeveel matchpunten krijgen wij hiervoor?	

20	 V1032	<input type="checkbox"/> 1  <input type="checkbox"/> 1 
	 AB109	
	 H42	
	 A2	

	Uw rechter buurman opent met 1  . Wat gaat u doen met deze hand?	<input type="checkbox"/> Doublet
--	--	----------------------------------