



Bridge Test 2 voor beginners

De Antwoorden



























Auteur: Thijs Op het Roodt
© Bridge Office 2024

1	<table border="1" style="width: 100%; border-collapse: collapse;"> <tr> <td style="width: 15%; text-align: center;">♠</td> <td>AB104</td> <td style="width: 15%;"></td> <td style="width: 15%; text-align: center;">♠</td> <td>8</td> </tr> <tr> <td style="text-align: center;">♥</td> <td>AHB9</td> <td></td> <td style="text-align: center;">♥</td> <td>V4</td> </tr> <tr> <td style="text-align: center;">♦</td> <td>42</td> <td></td> <td style="text-align: center;">♦</td> <td>AVB53</td> </tr> <tr> <td style="text-align: center;">♣</td> <td>AV3</td> <td></td> <td style="text-align: center;">♣</td> <td>98764</td> </tr> </table> <p style="margin-top: 10px;">Wat is het juiste biedverloop? De tegenstanders passen.</p>	♠	AB104		♠	8	♥	AHB9		♥	V4	♦	42		♦	AVB53	♣	AV3		♣	98764	<div style="background-color: #e0f0e0; padding: 5px; margin-bottom: 10px;"> <input checked="" type="checkbox"/> 1 ♣ - 1 ♦ - 3 Sans Atout </div> <p>Voor 2 Sans Atout hebben we 20 punten nodig. Voor 1 ♣ 12 t/m19 punten. Met 1 ♦ belooft mijn partner minimaal 6 punten. is mijn zwakke kleur en daarom bied ik 3 Sans Atout als eindcontract.</p>
♠	AB104		♠	8																		
♥	AHB9		♥	V4																		
♦	42		♦	AVB53																		
♣	AV3		♣	98764																		

2	<table border="1" style="width: 100%; border-collapse: collapse;"> <tr> <td style="width: 15%; text-align: center;">♠</td> <td>A2</td> </tr> <tr> <td style="text-align: center;">♥</td> <td>8</td> </tr> <tr> <td style="text-align: center;">♦</td> <td>AHB109732</td> </tr> <tr> <td style="text-align: center;">♣</td> <td>62</td> </tr> </table> <p style="margin-top: 10px;">Mijn partner opent met 1 ♦ . Wat bied ik?</p>	♠	A2	♥	8	♦	AHB109732	♣	62	<div style="background-color: #e0f0e0; padding: 5px; margin-bottom: 10px;"> <input checked="" type="checkbox"/> 4 Sans Atout </div> <p>Ik ga azen vragen. Heeft mijn partner geen enkele aas, dan biedt hij 5 ♣ . Dan bied ik 5 ♦ en stopt de bieding. Heeft 1 aas, dan maken we 6 ♦ . ♦ vrouw is niet van belang, Mijn partner heeft minimaal 4 ♦ en ik heb 8 ♦ . Biedt mijn partner 2 azen, dan gaan we naar 7. Maar vergeet dan 7 Sans Atout niet.</p>
♠	A2									
♥	8									
♦	AHB109732									
♣	62									

3	<table border="1" style="width: 100%; border-collapse: collapse;"> <tr> <td style="width: 15%; text-align: center;">♠</td> <td>10542</td> </tr> <tr> <td style="text-align: center;">♥</td> <td>V53</td> </tr> <tr> <td style="text-align: center;">♦</td> <td>V985</td> </tr> <tr> <td style="text-align: center;">♣</td> <td>V10</td> </tr> </table> <p style="margin-top: 10px;">Mijn partner opent met 1 ♥ . Wat bied ik?</p>	♠	10542	♥	V53	♦	V985	♣	V10	<div style="background-color: #e0f0e0; padding: 5px; margin-bottom: 10px;"> <input checked="" type="checkbox"/> 2 ♥ </div> <p>Ga niet op zoek naar een nieuwe kleur. We hebben een mooie fit. Mijn partner heeft minimaal 5-kaart ♥ en ik heb een 3-kaart ♥ .</p>
♠	10542									
♥	V53									
♦	V985									
♣	V10									




4	<table border="1" style="width: 100%; border-collapse: collapse;"> <tr> <td style="width: 15%; text-align: center;">♠</td> <td>A</td> </tr> <tr> <td style="text-align: center;">♥</td> <td>AHB</td> </tr> <tr> <td style="text-align: center;">♦</td> <td>A1032</td> </tr> <tr> <td style="text-align: center;">♣</td> <td>HVB108</td> </tr> </table> <p style="margin-top: 10px;">Hoe open ik deze hand?</p>	♠	A	♥	AHB	♦	A1032	♣	HVB108	<div style="background-color: #e0f0e0; padding: 5px; margin-bottom: 10px;"> <input checked="" type="checkbox"/> 2 ♣ <input checked="" type="checkbox"/> 2 Sans Atout </div> <p>Wanneer ik 2 ♣ open dan biedt partner vermoedelijk 2 ♦ . Ik dan, 2 Sans Atout. Daarom open ik deze hand met ♠ aas alleen, meteen met 2 Sans Atout.</p>
♠	A									
♥	AHB									
♦	A1032									
♣	HVB108									





5	<table border="1" data-bbox="260 286 512 465"> <tbody> <tr> <td></td> <td>HV2</td> </tr> <tr> <td></td> <td>2</td> </tr> <tr> <td></td> <td>AH732</td> </tr> <tr> <td></td> <td>B875</td> </tr> </tbody> </table> <p>Mijn partner opent met 1 Sans Atout. Wat bied ik?</p>		HV2		2		AH732		B875	<p><input checked="" type="checkbox"/> 3 Sans Atout</p> <p>Mijn partner heeft minimaal 15 punten en ik heb 13 punten. Mocht mijn partner niks in  hebben, dan gaan we roemloos ten onder. Maar ik kan geen Stayman bieden en geen Jacoby. En 2 Sans Atout is te weinig. Daarom meteen 3 Sans Atout.</p>
	HV2									
	2									
	AH732									
	B875									
6	<p>Het biedverloop gaat als volgt. 1  - 1  - 3 Sans Atout Tegenstanders passen. Hoeveel punten heeft de openaar minimaal?</p>	<p><input checked="" type="checkbox"/> 19</p> <p>Het 1  bod, belooft minimaal 6 punten. Om een manche in Sans Atout te spelen hebben we samen 25 punten nodig. De openaar moet dus 19 punten hebben.</p>								
7	<p>Ik open met 1 Sans Atout. Mijn partner biedt 2 . Wat bedoelt hij hiermee?</p>	<p><input checked="" type="checkbox"/> Stayman</p> <p>Na 1 Sans Atout kan 2  alleen maar Stayman zijn.</p>								
8	<p>Ik open 1 Sans Atout. Partner biedt 2 . Ik bied 2 . Partner biedt 3 Sans Atout. Hoeveel punten heeft mijn partner minimaal?</p>	<p><input checked="" type="checkbox"/> 10</p> <p>Mijn partner weet dat ik 15 punten kan hebben. Voor 3 Sans Atout hebben wij samen 25 punten nodig, Daarom heeft mijn partner minimaal 10 punten.</p>								
9	<p>Ik open 1 Sans Atout. Partner 2 . Ik 2 . Partner 2 Sans Atout. Wat heeft mijn partner?</p>	<p><input checked="" type="checkbox"/> 4 kaart  en 8/9 punten</p> <p>2  is Stayman. Mijn partner heeft minimaal één 4-kaart hoog. Omdat ik 3  bied en mijn partner 3 Sans Atout, wil zeggen dat mijn partner een 4-kaart  en 8/9 punten heeft.</p>								



























10	<table border="1" style="width: 100%; border-collapse: collapse; margin-bottom: 10px;"> <tr><td style="width: 15%; text-align: center;">♠</td><td style="text-align: center;">4</td></tr> <tr><td style="text-align: center;">♥</td><td style="text-align: center;">-</td></tr> <tr><td style="text-align: center;">♦</td><td style="text-align: center;">AHB8653</td></tr> <tr><td style="text-align: center;">♣</td><td style="text-align: center;">AHVB10</td></tr> </table> <p>Hoe opent u deze hand?</p>	♠	4	♥	-	♦	AHB8653	♣	AHVB10	<div style="background-color: #e0f0e0; padding: 5px; margin-bottom: 10px;"><input checked="" type="checkbox"/> 4 Sans Atout</div> <p>Heeft mijn partner geen aas, dan biedt hij 5 ♣ en met 5 ♦ eindigt de bieding dan. Biedt hij 1 aas, dan wordt het 6 ♦. Biedt hij 2 azen dan zou ik op de snit van ♦ vrouw 7 Sans Atout bieden. Het wordt dan de top of de nul.</p>
♠	4									
♥	-									
♦	AHB8653									
♣	AHVB10									


































11	<div style="text-align: center; margin-bottom: 10px;">♦ 2</div> <table border="1" style="width: 100%; border-collapse: collapse; margin-bottom: 10px;"> <tr><td style="width: 15%; text-align: center;">♠</td><td style="text-align: center;">H</td></tr> <tr><td style="text-align: center;">♥</td><td style="text-align: center;">875</td></tr> <tr><td style="text-align: center;">♦</td><td style="text-align: center;">H643</td></tr> <tr><td style="text-align: center;">♣</td><td style="text-align: center;">76543</td></tr> </table> <table border="1" style="width: 100%; border-collapse: collapse;"> <tr><td style="width: 15%; text-align: center;">♠</td><td style="text-align: center;">10985</td></tr> <tr><td style="text-align: center;">♥</td><td style="text-align: center;">642</td></tr> <tr><td style="text-align: center;">♦</td><td style="text-align: center;">B109</td></tr> <tr><td style="text-align: center;">♣</td><td style="text-align: center;">VB9</td></tr> </table> <p>Mijn partner zuid, start met ♦ 2 tegen 3 Sans Atout. Het is de 4^e van boven. Hoeveel honneurs heeft Oost als leider van de ♦ maximaal?</p>	♠	H	♥	875	♦	H643	♣	76543	♠	10985	♥	642	♦	B109	♣	VB9	<div style="background-color: #e0f0e0; padding: 5px; margin-bottom: 10px;"><input checked="" type="checkbox"/> 1</div> <p>West kan 3 keer boven de ♦ 2 van mijn partner en heeft 2 ♦ honneurs. Dan heb 1 ♦ honneurs en kan 4 keer boven ♦ 2 Ik mis ik dus ♦ aas, vrouw. Oost kan dus maximaal 2 honneurs hebben. De berekening klopt. Maar... Zou zuid starten met ♦ 2 van ♦ 8752? Dat denk ik niet. Zuid heeft minimaal 1 honneur. Dus Oost kan maximaal 1 honneur hebben.</p>
♠	H																	
♥	875																	
♦	H643																	
♣	76543																	
♠	10985																	
♥	642																	
♦	B109																	
♣	VB9																	

12	<table border="1" style="width: 100%; border-collapse: collapse; margin-bottom: 10px;"> <tr><td style="width: 15%; text-align: center;">♠</td><td style="text-align: center;">AV953</td></tr> <tr><td style="text-align: center;">♥</td><td style="text-align: center;">2</td></tr> <tr><td style="text-align: center;">♦</td><td style="text-align: center;">632</td></tr> <tr><td style="text-align: center;">♣</td><td style="text-align: center;">AB103</td></tr> </table> <p>Partner opent 1 ♣. Ik bied 1 ♠. Partner biedt 2 ♠. Wat bied ik nu?</p>	♠	AV953	♥	2	♦	632	♣	AB103	<div style="background-color: #e0f0e0; padding: 5px; margin-bottom: 10px;"><input checked="" type="checkbox"/> 4 ♠</div> <p>Ik heb 11 echte punten en voor de singelton ♥ mag ik 2 punten bijtellen. Dus ik heb 13 punten. Nu hebben we beiden een opening en daarom bied ik de manche.</p>
♠	AV953									
♥	2									
♦	632									
♣	AB103									

13	Tegen 3 Sans Atout van de tegenpartij, start ik met  aas. Hoeveel punten kan mijn partner maximaal hebben?	☒ 8
		Om een manche in Sans Atout te spelen heb je 25 punten nodig. Ik start met  aas en heb daarom ook  heer. Dat zijn dus 7 punten. Bij elkaar dus 32. Hij kan dus maximaal 8 punten hebben,

14	Tegen 4  van de tegenpartij, start ik met  heer. Hoeveel punten kan mijn partner maximaal hebben?	☒ 10
		Ook voor 4  heb ik 25 punten nodig. Start ik met een honneur, dan heb ik de onderliggende honneur ook.  Heer en Vrouw zijn 5 punten. Met de 25 punten van de tegenpartij zijn dat 30 punten. Mijn partner kan maximaal 10 punten hebben.

15	<table border="1" style="width: 100%; border-collapse: collapse;"> <tr> <td style="text-align: center;"></td> <td style="text-align: center;">4</td> <td style="width: 20px;"></td> <td style="text-align: center;"></td> <td style="text-align: center;">AB1073</td> </tr> <tr> <td style="text-align: center;"></td> <td style="text-align: center;">A762</td> <td></td> <td style="text-align: center;"></td> <td style="text-align: center;">B1054</td> </tr> <tr> <td style="text-align: center;"></td> <td style="text-align: center;">H976</td> <td></td> <td style="text-align: center;"></td> <td style="text-align: center;">4</td> </tr> <tr> <td style="text-align: center;"></td> <td style="text-align: center;">HVB5</td> <td></td> <td style="text-align: center;"></td> <td style="text-align: center;">A84</td> </tr> </table> <p>Na 1  van west, biedt oost 1  . Wat gaat west nu bieden?</p>		4			AB1073		A762			B1054		H976			4		HVB5			A84	☒ 1 Sans Atout
	4			AB1073																		
	A762			B1054																		
	H976			4																		
	HVB5			A84																		
		Gaat west nu 2  of 2  bieden, dan biedt hij reverse en belooft daar dan 16 punten of meer mee. Hij heeft maar 13 punten en biedt daarom Sans Atout op een zo laag mogelijk niveau. Daarom is de opening van west ook fout. Hij had met 1  moeten openen. De middelste van drie 4-kaarten.																				

16	<table border="1" style="width: 100%; border-collapse: collapse;"> <tr> <td style="text-align: center;"></td> <td style="text-align: center;">96</td> <td style="width: 20px;"></td> <td style="text-align: center;"></td> <td style="text-align: center;">A82</td> </tr> <tr> <td style="text-align: center;"></td> <td style="text-align: center;">A64</td> <td></td> <td style="text-align: center;"></td> <td style="text-align: center;">HB9</td> </tr> <tr> <td style="text-align: center;"></td> <td style="text-align: center;">V95</td> <td></td> <td style="text-align: center;"></td> <td style="text-align: center;">AB7</td> </tr> <tr> <td style="text-align: center;"></td> <td style="text-align: center;">A7632</td> <td></td> <td style="text-align: center;"></td> <td style="text-align: center;">HV54</td> </tr> </table> <p>Hoeveel  slagen maakt u als oost - west samen in Sans Atout?</p>		96			A82		A64			HB9		V95			AB7		A7632			HV54	☒ 4
	96			A82																		
	A64			HB9																		
	V95			AB7																		
	A7632			HV54																		
		Oost en west hebben samen 9  kaarten. Ze missen er dus 4. Zit  B1098 op een hand, dan maken ze  AHV van de  . De 4 ^e  geven ze af en dan wordt in west nog de 5 ^e  gemaakt. Zitten de  niet op een hand, dan maken ze 5  slagen.																				

17	♠	VB102		♠	AH95
	♥	104		♥	-
	♦	AH4		♦	10732
	♣	9873		♣	AHB42

U als west moet 6 ♠ maken.
 Hoe behandelt u de ♣? En als dat goed gaat, wat gooit u af op de 5^e ♣?

Speel ♣ Aas, heer in de hoop dat ♣ vrouw valt. Op de 5^e ♣ gooi ik een af ♦

Met 8 kaarten samen snijden we altijd en met 9 kaarten samen, snijden we (bijna) nooit. En nu valt ♣ Vrouw op de tweede keer ♣ spelen. Op de 5^e ♣ gooit u uw verliezende 4 ♦ af.

18	♠	A7
	♥	2
	♦	V86
	♣	A1098762

Hoe opent u deze hand?
 U bent niet kwetsbaar.

3 ♣

Pas de regel van 2 en 3 toe. Kwetsbaar mag u 2 down, niet kwetsbaar 3. Of kwetsbaar moet 7 slagen maken en niet kwetsbaar 6 slagen. Heeft u 3 keer troef gespeeld dan zijn normaliter de troeven bij de tegenstander weg. U maakt dan nog 4 troef slagen. Maar troef aas is er eentje van de 3. ♠ aas zorgt voor de 6^e slag. En klopt de regel van 2 en 3.

19	♠	AB74
	♥	42
	♦	A3
	♣	AH643

Hoe opent u deze hand?
 U bent niet kwetsbaar.

1 ♣
 1 Sans Atout

Met twee dubbeltons, open ik zelden met Sans Atout. Is wat voor te zeggen. Maar diegene die goed uitgeslagen is doet dat soms toch. Doe je dat niet, dan open je deze hand met 1 ♣.

20	♠	4		♠	AB97
	♥	HB2		♥	AV
	♦	AV972		♦	H864
	♣	AB102		♣	983

U bent oost en moet 6 Sans Atout maken. Zuid start met ♦ boer. In welke kleur, gaat u dadelijk een slag afgeven?

♣

U mag zuid dankbaar zijn dat hij zo uitkomt. Wie heeft ♦ 10? Precies zuid. Die kunt u er dus mooi uit snijden. Ik moet hopen dat de ♣ honneurs verdeeld zitten of allebei bij zuid zitten. Dan geef ik maar één ♣ slag af.