




Bridge Test 10 voor beginners




Auteur: Thijs Op het Roodt
© Bridge Office 2024
















Klik in het vierkantje om het juiste antwoord aan te kruisen.
Door nogmaals op het vakje te klikken, zet u het kruisje uit.


















Veel plezier.
De antwoorden kunt u vinden op mijn website.

1	<p>Onze tegenstanders gaan in 3 Sans Atout, 2 gedoubleerd, down. Zij zijn niet kwetsbaar. Hoeveel MP levert dat ons op?</p>	<input type="checkbox"/> 200 <input type="checkbox"/> 250 <input type="checkbox"/> 300
---	---	--

2	<p>Ik open met 1 Sans Atout. Mijn partner biedt 2  . Hoeveel punten heeft hij minimaal?</p>	<input type="checkbox"/> 0 (nul) <input type="checkbox"/> 6 <input type="checkbox"/> 10
---	--	---

3	<p>Ik heb  HV65432 en verder geen punt in handen. Wij zijn niet kwetsbaar. Wat ga ik doen?</p>	<input type="checkbox"/> 2  <input type="checkbox"/> 3  <input type="checkbox"/> Pas
---	--	---

4	<table border="1" style="margin-bottom: 10px;"> <tr><td></td><td>HV98</td></tr> <tr><td></td><td>A32</td></tr> <tr><td></td><td>HB43</td></tr> <tr><td></td><td>B10</td></tr> </table> <p>Zuid opent met 1  . Wij zijn kwetsbaar. Wat doe ik met deze hand?</p>		HV98		A32		HB43		B10	<input type="checkbox"/> Bied 1  <input type="checkbox"/> Bied 1  <input type="checkbox"/> Leg Doublet
	HV98									
	A32									
	HB43									
	B10									







5	<table border="1" style="margin-bottom: 10px;"> <tr><td></td><td>B1098</td></tr> <tr><td></td><td>103</td></tr> <tr><td></td><td>HB43</td></tr> <tr><td></td><td>B104</td></tr> </table> <p>Tegen 3 Sans Atout start mijn partner oost met  2. Zuid speelt  3. Welke speel ik bij?</p>		B1098		103		HB43		B104	<input type="checkbox"/>  4 <input type="checkbox"/>  10 <input type="checkbox"/>  Boer
	B1098									
	103									
	HB43									
	B104									






6	♠	B1098			<input type="checkbox"/> 3 <input type="checkbox"/> 4 <input type="checkbox"/> 5
	♥	103			
	♦	AH108			
	♣	B104			
			♠		
		♥			
		♦	B754		
		♣			
Partner oost start met ♦ 3. Hoeveel ♦ slagen maken wij minimaal?					








7	Wij hebben 2 Sans Atout+2 gemaakt. Hoeveel MP levert ons dat op?	<input type="checkbox"/> 150 <input type="checkbox"/> 180 <input type="checkbox"/> 210
---	---	--



8	Ik mag starten tegen een 3 Sans Atout van zuid. Mijn partner heeft ♠ tussen geboden. Ik ga dus starten met ♠. Mijn ♠ bezit is: V1082 Met welke ♠ start ik?	<input type="checkbox"/> ♠ 2 <input type="checkbox"/> ♠ 8 <input type="checkbox"/> ♠ Vrouw
---	--	--









9	Na mijn 1♥ opening, biedt mijn partner 4♥. Hoeveel punten heeft hij minimaal?	<input type="checkbox"/> 10 <input type="checkbox"/> 11 <input type="checkbox"/> 12
---	--	---







10	 H1098	<input type="checkbox"/> Bied 1  <input type="checkbox"/> Leg een Doublet <input type="checkbox"/> Pas
	 32	
	 AB10	
	 AB104	
Zuid opent met 1  . Wij zijn niet kwetsbaar. Wat doe ik met deze hand?		







11	 AV86	 B432	<input type="checkbox"/>  2 <input type="checkbox"/>  Boer
	Ik speel 3 Sans Atout en ben in oost aan slag. Welke  kan ik het beste spelen?		







12	 H92	<input type="checkbox"/>  2 <input type="checkbox"/>  9 <input type="checkbox"/>  Heer
	Tegen 3 Sans Atout van noord, komt oost uit met  3. Zuid speelt  4 bij. Welke  moet ik bijspelen?	









13	Ik open met 1  . Noord past en mijn partner oost biedt 3  .	<input type="checkbox"/> 17 <input type="checkbox"/> 18 <input type="checkbox"/> 19
	Hoeveel punten zouden Noord-Zuid nu samen kunnen hebben?	

14	 AH2	<input type="checkbox"/>  2 <input type="checkbox"/>  9 <input type="checkbox"/>  Aas
	 982	
	 V86	
	 B432	
Ik mag starten tegen een 4  . Waar kan ik het beste mee uitkomen?		

15	 AHV2		<input type="checkbox"/> 1  <input type="checkbox"/> 1  <input type="checkbox"/> 1 Sans Atout
	 HB82		
	 VB86		
	 3		
Ik heb 16 punten. Hoe open ik deze hand?			

16	 AH92		<input type="checkbox"/> 1  <input type="checkbox"/> 1  <input type="checkbox"/> 1 Sans Atout
	 H982		
	 VB86		
	 3		
Ik heb 13 punten. Hoe open ik deze hand?			

17	 AH9		<input type="checkbox"/> Ik bied 2  <input type="checkbox"/> Leg een doublet <input type="checkbox"/> Ik Pas
	 H9872		
	 VB8		
	 93		
Zuid opent met 1  . Wat ga ik doen met deze hand?			

18	 AH2		<input type="checkbox"/> 2  <input type="checkbox"/> 2  <input type="checkbox"/> 3 
	 982		
	 V86		
	 B432		
Mijn partner opent met 1  . Zuid past. Wat ga ik doen?			

19	<table border="1" style="width: 100%; border-collapse: collapse;"> <tr> <td style="width: 25%; text-align: center;">♠ AHV</td> <td style="width: 25%;"></td> <td style="width: 25%; text-align: center;">♠ VB7432</td> <td style="width: 25%;"></td> </tr> <tr> <td style="text-align: center;">♥ 982</td> <td></td> <td style="text-align: center;">♥ HV2</td> <td></td> </tr> <tr> <td style="text-align: center;">♦ V86</td> <td></td> <td style="text-align: center;">♦ HB2</td> <td></td> </tr> <tr> <td style="text-align: center;">♣ B4</td> <td></td> <td style="text-align: center;">♣ A10</td> <td></td> </tr> </table>	♠ AHV		♠ VB7432		♥ 982		♥ HV2		♦ V86		♦ HB2		♣ B4		♣ A10		<input type="checkbox"/> 6 <input type="checkbox"/> 8 <input type="checkbox"/> 9
♠ AHV		♠ VB7432																
♥ 982		♥ HV2																
♦ V86		♦ HB2																
♣ B4		♣ A10																
Als oost moet ik 3 Sans Atout maken. Maar hoeveel slagen maak ik zeker?																		

20	<table border="1" style="width: 100%; border-collapse: collapse;"> <tr> <td style="width: 25%; text-align: center;">♠ AHV</td> <td style="width: 75%;"></td> </tr> <tr> <td style="text-align: center;">♥ 982</td> <td></td> </tr> <tr> <td style="text-align: center;">♦ V86</td> <td></td> </tr> <tr> <td style="text-align: center;">♣ B4</td> <td></td> </tr> </table>	♠ AHV		♥ 982		♦ V86		♣ B4		<input type="checkbox"/> 1 <input type="checkbox"/> 2 <input type="checkbox"/> 3
♠ AHV										
♥ 982										
♦ V86										
♣ B4										
Zuid moet 4 ♥ gaan spelen. Hoeveel punten heeft mijn partner oost maximaal?										