
































# Bridge Test 7 voor beginners




Auteur: Thijs Op het Roodt  
© Bridge Office 2024

Klik in het vierkantje om het juiste antwoord aan te kruisen.  
Door nogmaals op het vakje te klikken, zet u het kruisje uit.

Veel plezier.  
De antwoorden kunt u vinden op mijn website.








1	<table border="1" style="margin-bottom: 10px;"> <tr><td style="text-align: center;"></td><td style="text-align: center;">74</td></tr> <tr><td style="text-align: center;"></td><td style="text-align: center;">86</td></tr> <tr><td style="text-align: center;"></td><td style="text-align: center;">AH842</td></tr> <tr><td style="text-align: center;"></td><td style="text-align: center;">A432</td></tr> </table> <p>Tegen 3 Sans Atout is uw partner gestart met  8. U neemt met  aas. Wat speelt u na?</p>		74		86		AH842		A432	<input type="checkbox"/>  3 <input type="checkbox"/>  Aas <input type="checkbox"/>  4
	74									
	86									
	AH842									
	A432									
2	<p>Wat is de waarde aan matchpunten voor  ?</p>	<input type="checkbox"/> 20 <input type="checkbox"/> 30 <input type="checkbox"/> 40								
3	<p>De tegenpartij gaat in 3 Sans Atout 1 down en ze zijn niet kwetsbaar. Hoeveel matchpunten zijn dat dan voor ons?</p>	<input type="checkbox"/> 50 <input type="checkbox"/> 100 <input type="checkbox"/> 150								
4	<p>In de eerste ronde bij het laatste spel heeft noord 14 kaarten en west 12. Mag nu de arbiter geroepen worden?</p>	<input type="checkbox"/> Ja <input type="checkbox"/> Nee								
5	<p>Na een opening van 1 , door de tegenpartij, biedt mijn partner 2  . Wat betekent dat bod?</p>	<input type="checkbox"/> Volgbod met 5-kaart  <input type="checkbox"/> Opening met een 5-kaart  <input type="checkbox"/> Opening met een 6-kaart 								



6	 VB107	<input type="checkbox"/> 1  <input type="checkbox"/> 1  <input type="checkbox"/> 1 Sans Atout
	 AH863	
	 AV	
	 109	
Waar opent u deze 16 punter mee?		







7	Na een 1  opening, biedt mijn partner 1  bij. Hoeveel  heeft hij minimaal?	<input type="checkbox"/> 4 <input type="checkbox"/> 5 <input type="checkbox"/> 6
---	--	--


8	Mag de dummy onder het spel de arbiter roepen?	<input type="checkbox"/> Ja <input type="checkbox"/> Nee
---	--	---




9	Wat betekent een doublet, nadat de tegenpartij op 1 niveau in een kleur, heeft geopend?	<input type="checkbox"/> Strafdoublet <input type="checkbox"/> Partner biedt je langste kleur <input type="checkbox"/> Informatie doublet
---	---	---

















10	Mijn rechter buurman opent met 1  . Ik heb een 2-kaart  . Een 4-kaart  , Een 4-kaart  en een 3-kaart  , met 10 punten. Wat ga ik doen?	<input type="checkbox"/> 1  <input type="checkbox"/> 1  <input type="checkbox"/> pas
----	---	--

11	Mijn partner opent 1  . Ik bied 1  . Nu biedt mijn partner 1 Sans Atout. Hoeveel punten heeft hij maximaal?	<input type="checkbox"/> 14 <input checked="" type="checkbox"/> 15 <input type="checkbox"/> 16
----	---	--

12	Ik heb een 3-kaart  . En een 4-kaart  . Een 4-kaart  . En een 2-kaart  . Maar ook 19 punten. Hoe open ik deze hand?	<input type="checkbox"/> 2 Sans Atout <input type="checkbox"/> 1  <input type="checkbox"/> 1 
----	--	---

13	Zuid is leider in 3 Sans Atout. West komt uit met  aas. In de dummy liggen 12 punten. Maar hoeveel punten heeft oost maximaal?	<input type="checkbox"/> 8 <input type="checkbox"/> 9 <input type="checkbox"/> 10
----	---	---

14	In een 3 Sans Atout komt de tegenstander uit met  boer. Wat weet ik nu?	<input type="checkbox"/> Is de 4 <sup>e</sup> van boven <input type="checkbox"/> Hij heeft  vrouw <input type="checkbox"/> Hij heeft  10
----	---	--

15	<table border="1" style="margin-left: auto; margin-right: auto;"> <tr> <td style="text-align: center;"></td> <td>H43</td> </tr> <tr> <td style="text-align: center;"></td> <td>AVB102</td> </tr> <tr> <td style="text-align: center;"></td> <td>B109</td> </tr> <tr> <td style="text-align: center;"></td> <td>32</td> </tr> </table> <p>Mijn partner opent met 1  . Rechts van mij wordt gepast. Wat bied ik?</p>		H43		AVB102		B109		32	<input type="checkbox"/> 2  <input type="checkbox"/> 3  <input type="checkbox"/> 4 
	H43									
	AVB102									
	B109									
	32									

16	Hoeveel kaarten van één kleur moet ik hebben om een preëmptieve opening op 3 niveau te doen?	<input type="checkbox"/> 5 <input type="checkbox"/> 6 <input type="checkbox"/> 7
----	--	--

17	Ik heb 21 punten met 4-kaart ♠, 3-kaart ♥, 3-kaart ♦ en een 3-kaart ♣. Waar open ik mee?	<input type="checkbox"/> 1 ♠ <input type="checkbox"/> 1 Sans Atout <input type="checkbox"/> 2 Sans Atout
----	--	--

18	Vink de preëmptieve openingen aan.	<input type="checkbox"/> 2 ♠ <input type="checkbox"/> 2 SA <input type="checkbox"/> 2 ♣ <input type="checkbox"/> 3 ♦ <input type="checkbox"/> 4 ♥
----	------------------------------------	---

19	<table border="1" style="margin-bottom: 10px;"> <tr> <td style="text-align: center;">♠</td> <td>H94</td> </tr> <tr> <td style="text-align: center;">♥</td> <td>H10543</td> </tr> <tr> <td style="text-align: center;">♦</td> <td>10965</td> </tr> <tr> <td style="text-align: center;">♣</td> <td>3</td> </tr> </table> <p>De tegenpartij heeft 3 Sans Atout geboden. Waar komt u mee uit?</p>	♠	H94	♥	H10543	♦	10965	♣	3	<input type="checkbox"/> ♦ 5 <input type="checkbox"/> ♥ 4 <input type="checkbox"/> ♣ 3
♠	H94									
♥	H10543									
♦	10965									
♣	3									

20	Waar is de Stayman conventie voor bedoeld?	<input type="checkbox"/> Kijken of wij een manche in Sans Atout kunnen spelen <input type="checkbox"/> Kijken of wij een manche in een hoge kleur spelen <input type="checkbox"/> Kijken of wij een fit in de hoge kleuren hebben
----	--	---