



















Bridge Test 1 voor beginners











Auteur: Thijs Op het Roodt
© Bridge Office 2024

Klik in het vierkantje om het juiste antwoord aan te kruisen.
Door nogmaals op het vakje te klikken, zet u het kruisje uit.

Veel plezier.
De antwoorden kunt u vinden op mijn website.







1	Mijn partner komt uit met ♥ aas tegen een 4♠ contract van de tegenpartij. Daarna speelt hij ♥ 2.	<input type="checkbox"/> Mijn partner heeft ♥ heer <input type="checkbox"/> Mijn partner heeft geen ♥ meer <input type="checkbox"/> Mijn partner heeft ♥ AHV2
2	Ik open met 1♠ en mijn partner biedt 2♥. Hoeveel ♥ heeft hij dan minimaal?	<input type="checkbox"/> 4 <input type="checkbox"/> 5 <input type="checkbox"/> 6
3	Mijn partner opent met 1♦. Ik bied 1♠. Mijn partner biedt 2♣. Hoeveel punten moet mijn partner minimaal hebben?	<input type="checkbox"/> 12 <input type="checkbox"/> 14 <input type="checkbox"/> 15
4	Wij spelen de regel van 11 of zoals dat ook heet, de 4 ^e kaart van boven tegen een Sans Atout contract. Mijn partner start met ♣ 3. Hoeveel ♣ heeft hij maximaal?	<input type="checkbox"/> 3 <input type="checkbox"/> 4 <input type="checkbox"/> 5
5	Ik open met 1♥. Mijn partner biedt 1♠. Ik vervolg met 3 Sans Atout. Hoeveel punten moet ik minimaal hebben?	<input type="checkbox"/> 12 <input type="checkbox"/> 16 <input type="checkbox"/> 19



6	<p>Ik open met 1  . Mijn partner biedt 1  . Ik vervolg met 2 Sans Atout. Hoeveel punten moet ik minimaal hebben?</p>	<p><input type="checkbox"/> 12</p> <p><input type="checkbox"/> 15</p> <p><input type="checkbox"/> 18</p>
7	<p>Tegen een 3 Sans Atout mag ik uitkomen. Ik wil met  uitkomen. Ik heb van  VB1032. Met welke  kom ik uit?</p>	<p><input type="checkbox"/> Vrouw</p> <p><input type="checkbox"/> 3</p> <p><input type="checkbox"/> 2</p>
8	<p>Ik heb 12 punten en een 5-kaart in  en een 5-kaart in  . Met welke kleur open ik nu?</p>	<p><input type="checkbox"/> </p> <p><input type="checkbox"/> </p> <p><input type="checkbox"/> De beste van de twee</p>
9	<p>Wat is een reverse bieding?</p>	<p><input type="checkbox"/> 1  en dan 3 </p> <p><input type="checkbox"/> 1  en dan 2 </p> <p><input type="checkbox"/> 1  en dan 2 </p>
10	<p>Ik open met 1 Sans Atout. Mijn partner biedt 2  . Hoeveel punten moet mijn partner minimaal hebben?</p>	<p><input type="checkbox"/> 0 (nul)</p> <p><input type="checkbox"/> 6</p> <p><input type="checkbox"/> 10</p>











11	 A1083	<input type="checkbox"/>  Aas <input type="checkbox"/>  Boer <input type="checkbox"/>  10 <input type="checkbox"/>  2
	 B98	
	 10986	
	 42	
Na 1  , 3  door noord-zuid, mag ik uitkomen. Waar kom ik mee uit?		

12	Na mijn 1 Sans Atout opening, biedt mijn partner 3 Sans Atout. Hoeveel punten moet mijn partner minimaal hebben?	<input type="checkbox"/> 9 <input type="checkbox"/> 10 <input type="checkbox"/> 11
----	--	--

13	Ik heb 22 punten en een 4-kaart  , een 4-kaart  , 3-kaart  en een 2-kaart  . Waar open ik mee?	<input type="checkbox"/> 1  <input type="checkbox"/> 1  <input type="checkbox"/> 2 Sans Atout
----	--	---

14	 AB1083	<input type="checkbox"/> Doublet <input type="checkbox"/> 1  <input type="checkbox"/> Pas
	 B98	
	 109	
	 HV2	
Uw tegenstander opent met 1  . Niet kwetsbaar. Wat gaat u doen?		

15	Na mijn 1  opening, biedt mijn partner 1 Sans Atout. Hoeveel  heeft mijn partner minimaal?	<input type="checkbox"/> 2 <input type="checkbox"/> 3 <input type="checkbox"/> 4
----	--	--

16	Ik open 1 Sans Atout. Mijn partner biedt 3 Sans Atout. In welke kleur heeft mijn partner minimaal een 4-kaart?	<input type="checkbox"/>  of  <input type="checkbox"/>  of  <input type="checkbox"/> Alleen  of alleen 
17	Ik open 1 Sans Atout. Mijn partner biedt 2  . Hoeveel punten moet mijn partner minimaal hebben?	<input type="checkbox"/> 0 (nul) <input type="checkbox"/> 6 <input type="checkbox"/> 10
18	Ik open 1 Sans Atout. Mijn partner biedt 2 Sans Atout. Hoeveel punten moet mijn partner minimaal hebben?	<input type="checkbox"/> 10 <input type="checkbox"/> 9 <input type="checkbox"/> 8
19	Ik open 1  . Mijn partner biedt 4  . Hoeveel punten moet mijn partner minimaal hebben?	<input type="checkbox"/> 10 <input type="checkbox"/> 11 <input type="checkbox"/> 12
20	Ik open 1 Sans Atout. Partner biedt 2  . Ik bied 2  . Partner biedt 4 Sans Atout. Wat is dit?	<input type="checkbox"/> Hij bedoelde 3 Sans Atout <input type="checkbox"/> Hij wil azen vragen <input type="checkbox"/> Hij wil dat Sans Atout gespeeld wordt