



Bridge Test 13 voor beginners

Auteur: Thijs Op het Roodt
© Bridge Office 2024

Klik in het vierkantje om het juiste antwoord aan te kruisen.
Door nogmaals op het vakje te klikken, zet u het kruisje uit.

Veel plezier.
De antwoorden kunt u vinden op mijn website.

1	<table border="1" style="width: 100%; border-collapse: collapse; margin-bottom: 5px;"> <tr> <td style="width: 15%; text-align: center;">♥</td> <td style="width: 35%; text-align: center;">A1075</td> <td style="width: 15%;"></td> <td style="width: 15%; text-align: center;">♥</td> <td style="width: 20%; text-align: center;">V432</td> </tr> </table> <p>U moet 3 slagen maken en u bent in Oost aan slag.</p>	♥	A1075		♥	V432	<input type="checkbox"/> Kleine ♥ naar ♥ aas <input type="checkbox"/> Kleine ♥ naar ♥ 10 <input type="checkbox"/> ♥ Vrouw
♥	A1075		♥	V432			

2	<table border="1" style="width: 100%; border-collapse: collapse; margin-bottom: 5px;"> <tr> <td style="width: 15%; text-align: center;">♠</td> <td style="width: 35%; text-align: center;">A1098</td> <td style="width: 15%;"></td> <td style="width: 15%; text-align: center;">♠</td> <td style="width: 20%; text-align: center;">V432</td> </tr> </table> <p>Ook nu moet u 3 slagen maken en u bent in oost aan slag.</p>	♠	A1098		♠	V432	<input type="checkbox"/> Kleine ♠ naar ♠ aas <input type="checkbox"/> Kleine ♠ naar ♠ 10 <input type="checkbox"/> ♠ Vrouw
♠	A1098		♠	V432			

3	<p>Kijk goed. Zuid kan misschien down.</p> <table border="1" style="width: 100%; border-collapse: collapse; margin-bottom: 10px;"> <tr> <td style="width: 15%; text-align: center;">♠</td> <td style="width: 35%; text-align: center;">H432</td> <td style="width: 15%;"></td> <td style="width: 15%; text-align: center;">♠</td> <td style="width: 20%; text-align: center;">AVB9</td> </tr> <tr> <td style="text-align: center;">♥</td> <td style="text-align: center;">104</td> <td></td> <td style="text-align: center;">♥</td> <td style="text-align: center;">B853</td> </tr> <tr> <td style="text-align: center;">♦</td> <td style="text-align: center;">VB2</td> <td></td> <td style="text-align: center;">♦</td> <td style="text-align: center;">876</td> </tr> <tr> <td style="text-align: center;">♣</td> <td style="text-align: center;">10982</td> <td></td> <td style="text-align: center;">♣</td> <td style="text-align: center;">AV</td> </tr> </table> <p>Zuid speelt 4 ♠. West start met 2 ♣. En ♣ Vrouw wint deze slag. Zuid speelt kleine ♥ naar ♥ aas van noord en die speelt nu kleine ♠ naar ♠ vrouw. Die neemt u met ♠ heer. Hoe vervolgt u?</p>	♠	H432		♠	AVB9	♥	104		♥	B853	♦	VB2		♦	876	♣	10982		♣	AV	<input type="checkbox"/> ♠ 4 <input type="checkbox"/> ♥ 10 <input type="checkbox"/> ♦ Vrouw <input type="checkbox"/> ♣ 10
♠	H432		♠	AVB9																		
♥	104		♥	B853																		
♦	VB2		♦	876																		
♣	10982		♣	AV																		

4

Kijk goed. Noord kan misschien down.

♠	86
♥	A954
♦	652
♣	HB72

♠	H82
♥	82
♦	AHV107
♣	V103

Noord speelt 4 ♠. Uw partner oost komt uit met ♥ vrouw. In Zuid ♥ 2. En nu?

♥ Aas en dan ♠ 8

♥ Aas en dan ♥ 4

♥ Aas en dan ♦ 6

♥ Aas en dan ♣ 2

5

Kijk goed. Noord kan misschien down.

♠	103
♥	984
♦	AV105
♣	7543

♠	H984
♥	1076
♦	H4
♣	VB102

Nog eentje. Omdat ik het leuk vind. Noord weer 4 ♠. Oost start met ♦ 9. In de dummy komt ♦ 4 en u ♦ vrouw.. En hoe verder?

♦ Aas

♠ 10

♥ 9

♣ 7

6

♥	86		♥	A42
---	----	--	---	-----

Oost moet 3 Sans Atout zien te maken en zuid komt met ♥ 3. In west ♥ 6 en noord ♥ heer. Wat speelt u bij?

♥ Aas

♥ 4

♥ 2

7	<table border="1" style="margin: auto; border-collapse: collapse;"> <tr> <td style="width: 20px;"></td> <td style="width: 20px; text-align: center;">♦</td> <td style="width: 40px;"></td> <td style="width: 20px; text-align: center;">♦</td> <td style="width: 40px; text-align: center;">86</td> </tr> <tr> <td style="width: 20px; text-align: center;">♦</td> <td style="width: 40px; text-align: center;">V10532</td> <td style="width: 40px;"></td> <td style="width: 20px; text-align: center;">♦</td> <td style="width: 40px; text-align: center;">AB9</td> </tr> <tr> <td style="width: 20px;"></td> <td style="width: 20px;"></td> <td style="width: 20px; text-align: center;">♦</td> <td style="width: 40px; text-align: center;">H74</td> <td style="width: 20px;"></td> </tr> </table> <p>Zuid moet 3 Sans Atout maken en west komt uit met ♦ 3. In de dummy ♦ 6. Wat speelt u als oost?</p>		♦		♦	86	♦	V10532		♦	AB9			♦	H74		<input type="checkbox"/> ♦ Aas <input type="checkbox"/> ♦ Boer <input type="checkbox"/> ♦ 9
	♦		♦	86													
♦	V10532		♦	AB9													
		♦	H74														

8	<table border="1" style="margin: auto; border-collapse: collapse;"> <tr> <td style="width: 20px; text-align: center;">♠</td> <td style="width: 40px; text-align: center;">H2</td> </tr> <tr> <td style="width: 20px; text-align: center;">♥</td> <td style="width: 40px; text-align: center;">987642</td> </tr> <tr> <td style="width: 20px; text-align: center;">♦</td> <td style="width: 40px; text-align: center;">H105</td> </tr> <tr> <td style="width: 20px; text-align: center;">♣</td> <td style="width: 40px; text-align: center;">73</td> </tr> </table> <p>Uw partner opent met 1 ♣. U biedt 1 ♥. Uw partner biedt 3 ♥. Wat gaat u doen?</p>	♠	H2	♥	987642	♦	H105	♣	73	<input type="checkbox"/> Passen <input type="checkbox"/> 4 ♥
♠	H2									
♥	987642									
♦	H105									
♣	73									

9	<table border="1" style="margin: auto; border-collapse: collapse;"> <tr> <td style="width: 20px; text-align: center;">♠</td> <td style="width: 40px; text-align: center;">A1083</td> </tr> <tr> <td style="width: 20px; text-align: center;">♥</td> <td style="width: 40px; text-align: center;">108</td> </tr> <tr> <td style="width: 20px; text-align: center;">♦</td> <td style="width: 40px; text-align: center;">10986</td> </tr> <tr> <td style="width: 20px; text-align: center;">♣</td> <td style="width: 40px; text-align: center;">VB7</td> </tr> </table> <p>Dit is mijn hand. Tegenpartij heeft gaat 3 Sans Atout spelen. Hoeveel punten heeft mijn partner maximaal?</p>	♠	A1083	♥	108	♦	10986	♣	VB7	<input type="checkbox"/> 8 <input type="checkbox"/> 9 <input type="checkbox"/> 10
♠	A1083									
♥	108									
♦	10986									
♣	VB7									














10	<table border="1" style="width: 100%; border-collapse: collapse;"> <tr><td style="width: 15%; text-align: center;">♠</td><td>A65</td></tr> <tr><td style="text-align: center;">♥</td><td>98</td></tr> <tr><td style="text-align: center;">♦</td><td>B1042</td></tr> <tr><td style="text-align: center;">♣</td><td>HV107</td></tr> </table> <p>Linker buurman opent met 1 ♥ . Mijn partner past. Mijn rechter buurman biedt 3 ♥ . U ziet mijn hand. Hoeveel punten heeft mijn partner maximaal?</p>	♠	A65	♥	98	♦	B1042	♣	HV107	<input type="checkbox"/> 7 <input type="checkbox"/> 8 <input type="checkbox"/> 9
♠	A65									
♥	98									
♦	B1042									
♣	HV107									


11	<table border="1" style="width: 100%; border-collapse: collapse;"> <tr> <td style="width: 15%; text-align: center;">♥</td> <td style="width: 15%;">HV</td> <td style="width: 10%;"></td> <td style="width: 15%; text-align: center;">♥</td> <td style="width: 45%;">AB10872</td> </tr> </table> <p>West is aan slag en oost heeft verder geen entrees meer. Hoeveel ♥ slagen maak oost-west minimaal met deze ♥ .</p>	♥	HV		♥	AB10872	<input type="checkbox"/> 4 <input type="checkbox"/> 5 <input type="checkbox"/> 6
♥	HV		♥	AB10872			













































12	<table border="1" style="width: 100%; border-collapse: collapse;"> <tr> <td style="width: 15%; text-align: center;">♠</td> <td style="width: 15%;">A974</td> <td style="width: 10%;"></td> <td style="width: 15%; text-align: center;">♠</td> <td style="width: 45%;">H10</td> </tr> <tr> <td style="text-align: center;">♥</td> <td>A5</td> <td></td> <td style="text-align: center;">♥</td> <td>VB96</td> </tr> <tr> <td style="text-align: center;">♦</td> <td>HB1098</td> <td></td> <td style="text-align: center;">♦</td> <td>A6</td> </tr> <tr> <td style="text-align: center;">♣</td> <td>32</td> <td></td> <td style="text-align: center;">♣</td> <td>AV1087</td> </tr> </table> <p>Wat is het contract dat oost-west zullen gaan spelen?</p>	♠	A974		♠	H10	♥	A5		♥	VB96	♦	HB1098		♦	A6	♣	32		♣	AV1087	<input type="checkbox"/> 5 ♣ <input type="checkbox"/> 5 ♦ <input type="checkbox"/> 3 Sans Atout
♠	A974		♠	H10																		
♥	A5		♥	VB96																		
♦	HB1098		♦	A6																		
♣	32		♣	AV1087																		



13	<table border="1" style="width: 100%; border-collapse: collapse;"> <tr><td style="width: 15%; text-align: center;">♠</td><td>B9762</td></tr> <tr><td style="text-align: center;">♥</td><td>VB75</td></tr> <tr><td style="text-align: center;">♦</td><td>5</td></tr> <tr><td style="text-align: center;">♣</td><td>987</td></tr> </table> <table border="1" style="width: 100%; border-collapse: collapse;"> <tr> <td style="width: 25%; text-align: center;">1 SA</td> <td style="width: 25%; text-align: center;">PAS</td> <td style="width: 25%; text-align: center;">3 SA</td> <td style="width: 25%; text-align: center;">PAS</td> </tr> </table> <p>Zuid is leider en u moet uitkomen. Waar komt u mee uit?</p>	♠	B9762	♥	VB75	♦	5	♣	987	1 SA	PAS	3 SA	PAS	<input type="checkbox"/> ♥ Vrouw <input type="checkbox"/> ♥ 5 <input type="checkbox"/> ♠ 6
♠	B9762													
♥	VB75													
♦	5													
♣	987													
1 SA	PAS	3 SA	PAS											





--	--	--


















14	<table border="1"> <tr> <td></td> <td>A</td> </tr> <tr> <td></td> <td>HVB10653</td> </tr> <tr> <td></td> <td>A9</td> </tr> <tr> <td></td> <td>942</td> </tr> </table>		A		HVB10653		A9		942	<input type="checkbox"/> 4 <input type="checkbox"/> 5 <input type="checkbox"/> 6
		A								
		HVB10653								
		A9								
	942									
Hoeveel verliezers telt u, wanneer u een  contract speelt?										















15	Ik ben geveer, heb 10 punten en pas. Mijn rechter buurman biedt 1 Sans Atout en mijn partner past. Mijn linker buurman biedt 2  .	<input type="checkbox"/> 6 <input type="checkbox"/> 7 <input type="checkbox"/> 8
	Hoeveel punten heeft mijn partner maximaal?	

16	<table border="1"> <thead> <tr> <th>Noord</th> <th>Oost</th> <th>Zuid</th> <th>West</th> </tr> </thead> <tbody> <tr> <td>-</td> <td>-</td> <td>-</td> <td>1 </td> </tr> <tr> <td>Pas</td> <td>1 </td> <td>pas</td> <td>1 </td> </tr> <tr> <td>Pas</td> <td>1 SA</td> <td>AP</td> <td></td> </tr> </tbody> </table>	Noord	Oost	Zuid	West	-	-	-	1 	Pas	1 	pas	1 	Pas	1 SA	AP		<input type="checkbox"/>  aas,  2 naar  10 en dan  vrouw <input type="checkbox"/> Ik laat de eerste slag aan noord. <input type="checkbox"/>  aas,  2 naar  10 en dan een kleine 
	Noord	Oost	Zuid	West														
	-	-	-	1 														
	Pas	1 	pas	1 														
Pas	1 SA	AP																
<table border="1"> <tr> <td></td> <td>AV65</td> <td></td> <td>73</td> </tr> <tr> <td></td> <td>V109</td> <td></td> <td>A52</td> </tr> <tr> <td></td> <td>V4</td> <td></td> <td>HB1095</td> </tr> <tr> <td></td> <td>A973</td> <td></td> <td>842</td> </tr> </table>		AV65		73		V109		A52		V4		HB1095		A973		842		
	AV65		73															
	V109		A52															
	V4		HB1095															
	A973		842															
Zuid komt uit met  3. West  9. Noord  heer. Hoe speelt u?																		

17	Mijn partner opent met 1  . Ik heb 7 punten en alleen een 4-kaart  en bied daarom 1 Sans Atout. Mijn partner biedt 2 Sans Atout.	<input type="checkbox"/> 16 <input type="checkbox"/> 18 <input type="checkbox"/> 19	
	Hoeveel punten heeft hij?		

18	<p>Noord opent 1  . Oost past. Zuid biedt 2  . Ik heb van alleen  9. Hoeveel  heeft west maximaal?</p>	<input type="checkbox"/> 2 <input type="checkbox"/> 3 <input type="checkbox"/> 4
----	--	--

19	<table border="1" style="margin-bottom: 10px;"> <tr><td></td><td>AB82</td></tr> <tr><td></td><td>AB107</td></tr> <tr><td></td><td>AB</td></tr> <tr><td></td><td>A102</td></tr> </table> <p>U opent als west deze hand met 1  . Noord past. Oost 1  . En zuid past. Wat gaat u bieden?</p>		AB82		AB107		AB		A102	<input type="checkbox"/> 2  <input type="checkbox"/> 3  <input type="checkbox"/> 4 
	AB82									
	AB107									
	AB									
	A102									

20	<table border="1" style="margin-bottom: 10px;"> <tr><td></td><td>HV10952</td></tr> <tr><td></td><td>7</td></tr> <tr><td></td><td>1052</td></tr> <tr><td></td><td>A73</td></tr> </table> <p>Zuid opent met 1  . Wat doet u met deze hand?</p>		HV10952		7		1052		A73	<input type="checkbox"/> Pas <input type="checkbox"/> Doublet <input type="checkbox"/> 1 
	HV10952									
	7									
	1052									
	A73									