

































Bridge Test 4 voor beginners

De Antwoorden

Auteur: Thijs Op het Roodt
© Bridge Office 2024

1	<table border="1" data-bbox="261 286 625 465"> <tbody> <tr> <td></td> <td>AB53</td> </tr> <tr> <td></td> <td>109</td> </tr> <tr> <td></td> <td>AHB108</td> </tr> <tr> <td></td> <td>H2</td> </tr> </tbody> </table> <p>Met 16 punten opent u met?</p>		AB53		109		AHB108		H2	<p><input checked="" type="checkbox"/> 1 </p> <p>Ik geloof best dat het moeilijk is. Maar stel u eens voor dat uw partner 5 punten heeft. Hij past op alles. Dan speel ik liever 1  dan 1 Sans Atout.</p>
	AB53									
	109									
	AHB108									
	H2									
2	<p>Ik open met 1  . Mijn partner biedt 2  . Hoeveel punten belooft mijn partner mij, minimaal?</p>	<p><input checked="" type="checkbox"/> 10</p> <p>Om een nieuwe kleur op 2 niveau te bieden, moet hij minimaal 10 punten hebben.</p>								
3	<p>Ik open met 1  . Mijn partner biedt 2  . Hoeveel  heeft mijn partner maximaal?</p>	<p><input checked="" type="checkbox"/> 2</p> <p>Mijn 1  opening belooft een 5-kaart. Zou mijn partner 3 of meer  hebben, dan zou hij de  gesteund hebben.</p>								
4	<p>Ik open met 1  . Mijn partner biedt 1  . Ik bied 1 Sans Atout. Hoeveel punten heb ik maximaal?</p>	<p><input checked="" type="checkbox"/> 15</p> <p>Ik kan met mijn 5-kaart  geen 1 Sans Atout openen. Ik kan dus 15 punten hebben.</p>								
5	<p>Ik open met 1  . Mijn partner biedt 1  . Hoeveel  heeft mijn partner maximaal?</p>	<p><input checked="" type="checkbox"/> 2</p> <p>Het zelfde verhaal als bij spel 3. Zou mijn partner 3 of meer  hebben, dan zou hij de  gesteund hebben</p>								

6	<p>Ik open met 1 ♥ . Mijn partner biedt 2 ♣ . Ik bied 2 Sans Atout.</p> <p>Hoeveel punten heb ik maximaal?</p>	<input checked="" type="checkbox"/> 14
---	--	--

Ik kan met mijn 5-kaart ♥ niet met 1 Sans Atout openen. Ik bied Sans Atout op een zo laag mogelijk niveau. Maximaal 14. Met 15 zou 3 Sans Atout bieden.

7	<p>Ik open met 1 ♥ . Mijn partner biedt 1 ♠ . Ik bied 3 Sans Atout.</p> <p>Hoeveel punten heb ik minimaal?</p>	<input checked="" type="checkbox"/> 19
---	--	--

Het 1 bod belooft 6+ punten. Zijn er het 6, dan moet ik er 19 hebben om een 3 Sans Atout te bieden.

8	<table border="1" style="margin-bottom: 10px;"> <tr><td>♠</td><td>A</td></tr> <tr><td>♥</td><td>HVB432</td></tr> <tr><td>♦</td><td>HV32</td></tr> <tr><td>♣</td><td>109</td></tr> </table> <p>Zuid opent met 1 ♣ . Wat gaat u doen?</p>	♠	A	♥	HVB432	♦	HV32	♣	109	<input checked="" type="checkbox"/> 2 ♥
♠	A									
♥	HVB432									
♦	HV32									
♣	109									

Met 15 punten en een 6-kaart ♥ is volgen met 1 ♥ te zwak. Door 2 ♥ te bieden, geef ik een opening en een 6-kaart in de geboden kleur aan.

9	<table border="1" style="margin-bottom: 10px;"> <tr> <td>♦</td><td>HVB1096</td><td>♦</td><td>5432</td> </tr> </table> <p>U speelt 3 Sans Atout. Hoeveel slagen maakt u minimaal met deze ♦ ?</p>	♦	HVB1096	♦	5432	<input checked="" type="checkbox"/> 5
♦	HVB1096	♦	5432			

U heeft samen 10 ♦ met de vijf hoogste buiten ♦ aas. U maakt dus maximaal 5 ♦ slagen.

10	<p>De tegenpartij opent met 1 ♦ . Mijn partner legt een doublet. Hoeveel punten heeft hij minimaal?</p>	<input checked="" type="checkbox"/> 12
----	---	--

Na een opening van de tegenpartij een doublet leggen, wil zeggen: Ik heb ook een opening. Dan zijn dat dus minimaal 12 punten.

11	<table border="1" data-bbox="272 360 636 539"> <tr> <td>♠</td> <td>HB32</td> </tr> <tr> <td>♥</td> <td>A1095</td> </tr> <tr> <td>♦</td> <td>H7</td> </tr> <tr> <td>♣</td> <td>AV5</td> </tr> </table> <p>Zuid opent met 1 ♣. Wat gaat u doen met uw 17 punten?</p>	♠	HB32	♥	A1095	♦	H7	♣	AV5	<p><input checked="" type="checkbox"/> 1 Sans Atout</p> <p>U heeft een dubbele dekking in de openingskleur. En zou de ♣ een 2-kaart zijn en heeft zuid een of twee 4-kaarten in de hoge kleuren, dan kan u die ook aan.</p>
♠	HB32									
♥	A1095									
♦	H7									
♣	AV5									
12	<p>Links van mij wordt geopend met 1 ♣. Ik Pas. Rechts van mij bieden ze 1 ♠. Mijn partner legt een doublet. Wat bedoeld hij hiermee?</p>	<p><input checked="" type="checkbox"/> Ik wil ♥ of ♦ spelen en heb een opening</p> <p>Doubleert men onder de 2 Sans Atout dan is dat een informatie doublet en geen straf doublet. Mijn partner heeft de twee niet geboden kleuren.</p>								
13	<table border="1" data-bbox="272 1099 790 1144"> <tr> <td>♦</td> <td>A862</td> <td></td> <td>♦</td> <td>V753</td> </tr> </table> <p>U moet 3 Sans Atout spelen. Vanuit wek hand speelt u deze kleur?</p>	♦	A862		♦	V753	<p><input checked="" type="checkbox"/> Maakt niet uit</p> <p>Zo vreemd als dat het klinkt. Eerst ♦ aas en dan een kleine ♦ naar ♦ vrouw of eerst een kleine ♦ naar ♦ aas en dan een kleine ♦ naar ♦ vrouw. Noord moet ♦ heer hebben, Anders levert het niets op. Hoe u het ook doet.</p>			
♦	A862		♦	V753						
14	<p>Links van mij wordt geopend met 1 ♣. Ik Pas. Rechts van mij bieden ze 1 ♠. Mijn partner legt een doublet. Hoeveel ♥ heeft mijn partner maximaal?</p>	<p><input checked="" type="checkbox"/> 4</p> <p>Zou hij meer dan 4 ♥ hebben, dan had hij 2 ♥ geboden.</p>								

15	<p>Ik open kwetsbaar preëemptief met 3 ♥ . Links van mij wordt gepast. Mijn partner biedt 4 ♥ .</p> <p>Hoeveel slagen heeft mijn partner minimaal?</p>	<p>☒ 3</p> <p>Bij elke preëemptieve opening leggen we de hand langs de regel van 2 en 3. Kwetsbaar mag ik 2 down, dus maak ik 7 slagen. Om een manche te maken heb ik 10 slagen nodig. Dus heeft mijn partner minimaal 3 slagen.</p>
----	--	--

16	<table border="1" style="margin-bottom: 10px;"> <tr> <td style="text-align: center;">♥</td> <td style="text-align: center;">V942</td> </tr> </table> <p>Uw partner komt uit met ♥5 tegen een 3 Sans Atout van de tegenpartij. In dummy wordt ♥3 bijgespeeld. Welke ♥ speelt u bij?</p>	♥	V942	<p>☒ ♥ Vrouw</p> <p>Mijn partner start met een kleintje en belooft daarmee minimaal een plaatje. En dan ook nog eens. De derde man doet wat hij kan.</p>
♥	V942			

17	<p>Ik open met 1 ♠ . Partner biedt 4 ♠ . Allen passen.</p> <p>Hoeveel punten heeft mijn partner minimaal?</p>	<p>☒ 12</p> <p>Met 12 punten hebben wij beiden een opening. Dan kan het zijn dat we dan maar 24 punten hebben. Maar van 100 manches die met 24 punten worden geboden, worden er 99 gemaakt.</p>
----	---	---

18	<table border="1" style="margin-bottom: 10px;"> <tr> <td style="text-align: center;">♠</td> <td style="text-align: center;">AH98</td> </tr> <tr> <td style="text-align: center;">♥</td> <td style="text-align: center;">982</td> </tr> <tr> <td style="text-align: center;">♦</td> <td style="text-align: center;">H54</td> </tr> <tr> <td style="text-align: center;">♣</td> <td style="text-align: center;">H32</td> </tr> </table> <p>De tegenpartij biedt 1 ♥ en toen 4 ♥ . Hoeveel punten heeft mijn partner maximaal?</p>	♠	AH98	♥	982	♦	H54	♣	H32	<p>☒ 2</p> <p>Je hebt 25 punten nodig voor een manche. Ik heb er 13 dus kan mijn partner maar 2 punten hebben.</p>
♠	AH98									
♥	982									
♦	H54									
♣	H32									

19	<table border="1" data-bbox="272 327 791 371"> <tr> <td style="text-align: center;">♦</td> <td style="text-align: center;">AB94</td> <td style="width: 20px;"></td> <td style="text-align: center;">♦</td> <td style="text-align: center;">V102</td> </tr> </table> <p>U speelt als west 3 Sans Atout. En bent in oost aan slag. Welke kaart speelt u uit de dummy?</p>	♦	AB94		♦	V102	<div style="background-color: #d9ead3; padding: 5px;"> <input checked="" type="checkbox"/> ♦ 10 <input checked="" type="checkbox"/> ♦ Vrouw </div> <p>Ik vind beiden ok. Als u maar niet neemt in west, wanneer zuid niet de heer legt.</p>
♦	AB94		♦	V102			
20	<p>Ik open met 1 Sans Atout. Allen passen. Hoeveel punten heeft mijn partner maximaal?</p>	<div style="background-color: #d9ead3; padding: 5px;"> <input checked="" type="checkbox"/> 7 </div> <p>Met 8 punten of meer had hij minimaal 2 Sans Atout geboden of Stayman. Wat ik nu ook weet, dat hij geen 5-kaart hoog heeft. Dan had hij Jacoby geboden.</p>					