



Bridge Test 2 voor beginners

Auteur: Thijs Op het Roodt
© Bridge Office 2024

Klik in het vierkantje om het juiste antwoord aan te kruisen.
Door nogmaals op het vakje te klikken, zet u het kruisje uit.

Veel plezier.
De antwoorden kunt u vinden op mijn website.

1	♠	AB104		♠	8
	♥	AHB9		♥	V4
	♦	42		♦	AVB53
	♣	AV3		♣	98764

Wat is het juiste biedverloop?
De tegenstanders passen.

1 ♣ - 3 ♣ - 5 ♣
 1 ♣ - 1 ♦ - 3 Sans Atout
 2 Sans Atout - 3 Sans Atout

2	♠	A2
	♥	8
	♦	AHB109732
	♣	62

Mijn partner opent met 1 ♦ .
Wat bied ik?

2 ♦
 5 ♦
 4 Sans Atout

3	♠	10542
	♥	V53
	♦	V985
	♣	V10













Mijn partner opent met 1 ♥ .
Wat bied ik?



1 ♠
 1 Sans Atout
 2 ♥



4	♠	A
	♥	AHB
	♦	A1032
	♣	HVB108



Hoe open ik deze hand?







1 ♣
 2 ♣
 2 Sans Atout







5	<table border="1" style="border-collapse: collapse; width: 100%;"> <tr> <td style="text-align: center; width: 30px;"></td> <td>HV2</td> </tr> <tr> <td style="text-align: center;"></td> <td>2</td> </tr> <tr> <td style="text-align: center;"></td> <td>AH732</td> </tr> <tr> <td style="text-align: center;"></td> <td>B875</td> </tr> </table>		HV2		2		AH732		B875	<input type="checkbox"/> 3 Sans Atout <input type="checkbox"/> 4 Sans Atout <input type="checkbox"/> 6 Sans Atout
		HV2								
		2								
		AH732								
		B875								
Mijn partner opent met 1 Sans Atout. Wat bied ik?										




























6	Het biedverloop gaat als volgt. 1  - 1  - 3 Sans Atout Tegenstanders passen. Hoeveel punten heeft de openaar minimaal?	<input type="checkbox"/> 15 <input type="checkbox"/> 16 <input type="checkbox"/> 19
---	--	---


















7	Ik open met 1 Sans Atout. Mijn partner biedt 2  . Wat bedoelt hij hiermee?	<input type="checkbox"/> Hij heeft een 5-kaart  <input type="checkbox"/> Stayman <input type="checkbox"/> Heeft 10 punten of meer
---	---	--


8	Ik open 1 Sans Atout. Partner biedt 2  . Ik bied 2  . Partner biedt 3 Sans Atout. Hoeveel punten heeft mijn partner minimaal?	<input type="checkbox"/> 8 <input type="checkbox"/> 9 <input type="checkbox"/> 10
---	--	---

9	Ik open 1 Sans Atout. Partner 2  . Ik 2  . Partner 2 Sans Atout. Wat heeft mijn partner?	<input type="checkbox"/> 4-kaart  en 8/9 punten <input type="checkbox"/> 4 kaart  en 8/9 punten <input type="checkbox"/> 4 kaart  en 4-kaart  en 8/9 punten
---	--	---

10	 4	<input type="checkbox"/> 1  <input type="checkbox"/> 5  <input type="checkbox"/> 4 Sans Atout
	 -	
	 AHB8653	
	 AHVB10	
Hoe opent u deze hand?		

11	 2	<table border="1"> <tr><td> H</td></tr> <tr><td> 875</td></tr> <tr><td> H643</td></tr> <tr><td> 76543</td></tr> </table>	 H	 875	 H643	 76543	<input type="checkbox"/> 1 <input type="checkbox"/> 2 <input type="checkbox"/> 3
	 H						
	 875						
	 H643						
 76543							
<table border="1"> <tr><td> 10985</td></tr> <tr><td> 642</td></tr> <tr><td> B109</td></tr> <tr><td> VB9</td></tr> </table>	 10985	 642	 B109	 VB9			
 10985							
 642							
 B109							
 VB9							
Mijn partner zuid, start met  2 tegen 3 Sans Atout. Het is de 4 ^e van boven. Hoeveel honneurs heeft Oost als leider van de  maximaal?							

12	<table border="1"> <tr><td> AV953</td></tr> <tr><td> 2</td></tr> <tr><td> 632</td></tr> <tr><td> AB103</td></tr> </table>	 AV953	 2	 632	 AB103	<input type="checkbox"/> Pas <input type="checkbox"/> 3  <input type="checkbox"/> 4 
	 AV953					
	 2					
	 632					
 AB103						
Partner opent 1  . Ik bied 1  .						
Partner biedt 2  . Wat bied ik nu?						

13	Tegen 3 Sans Atout van de tegenpartij, start ik met  aas. Hoeveel punten kan mijn partner maximaal hebben?	<input type="checkbox"/> 8
		<input type="checkbox"/> 10
		<input type="checkbox"/> 12

14 Tegen 4 ♠ van de tegenpartij, start ik met ♥ heer. Hoeveel punten kan mijn partner maximaal hebben?

8
 10
 12

♠	4	♠	AB1073
♥	A762	♥	B1054
♦	H976	♦	4
♣	HVB5	♣	A84

15 Na 1 ♣ van west, biedt oost 1 ♠. Wat gaat west nu bieden?

2 ♦
 2 ♥
 1 Sans Atout

♠	96	♠	A82
♥	A64	♥	HB9
♦	V95	♦	AB7
♣	A7632	♣	HV54

16 Hoeveel ♣ slagen maakt u als oost - west samen in Sans Atout?

3
 4
 5

♠	VB102	♠	AH95
♥	104	♥	-
♦	AH4	♦	10732
♣	9873	♣	AHB42

17 U als west moet 6 ♠ maken. Hoe behandelt u de ♣? En als dat goed gaat, wat gooit u af op de 5^e ♣?

Ga snijden op ♣ vrouw en gooi een ♥ af op de 5^e ♣.
 Speel ♣ Aas, heer in de hoop dat ♣ vrouw valt. Op de 5^e ♣ gooi ik een af ♥.
 Speel ♣ Aas, heer in de hoop dat ♣ vrouw valt. Op de 5^e ♣ gooi ik een af ♦.

18	<table border="1" style="width: 100%; border-collapse: collapse;"> <tr><td style="text-align: center;"> A7</td></tr> <tr><td style="text-align: center;"> 2</td></tr> <tr><td style="text-align: center;"> V86</td></tr> <tr><td style="text-align: center;"> A1098762</td></tr> </table> <p>Hoe opent u deze hand? U bent niet kwetsbaar.</p>	A7	2	V86	A1098762	<input type="checkbox"/> 2 <input type="checkbox"/> 3 <input type="checkbox"/> Pas
A7						
2						
V86						
A1098762						

19	<table border="1" style="width: 100%; border-collapse: collapse;"> <tr><td style="text-align: center;"> AB74</td></tr> <tr><td style="text-align: center;"> 42</td></tr> <tr><td style="text-align: center;"> A3</td></tr> <tr><td style="text-align: center;"> AH643</td></tr> </table> <p>Hoe opent u deze hand? U bent niet kwetsbaar.</p>	AB74	42	A3	AH643	<input type="checkbox"/> 1 <input type="checkbox"/> 1 Sans Atout <input type="checkbox"/> 1
AB74						
42						
A3						
AH643						

20	<table border="1" style="width: 100%; border-collapse: collapse;"> <tr> <td style="text-align: center;"> 4</td> <td style="width: 20%;"></td> <td style="text-align: center;"> AB97</td> </tr> <tr> <td style="text-align: center;"> HB2</td> <td></td> <td style="text-align: center;"> AV</td> </tr> <tr> <td style="text-align: center;"> AV972</td> <td></td> <td style="text-align: center;"> H864</td> </tr> <tr> <td style="text-align: center;"> AB102</td> <td></td> <td style="text-align: center;"> 983</td> </tr> </table> <p>U bent oost en moet 6 Sans Atout maken. Zuid start met boer. In welke kleur, gaat u dadelijk een slag afgeven?</p>	4		AB97	HB2		AV	AV972		H864	AB102		983	<input type="checkbox"/> <input type="checkbox"/> <input type="checkbox"/>
4		AB97												
HB2		AV												
AV972		H864												
AB102		983												